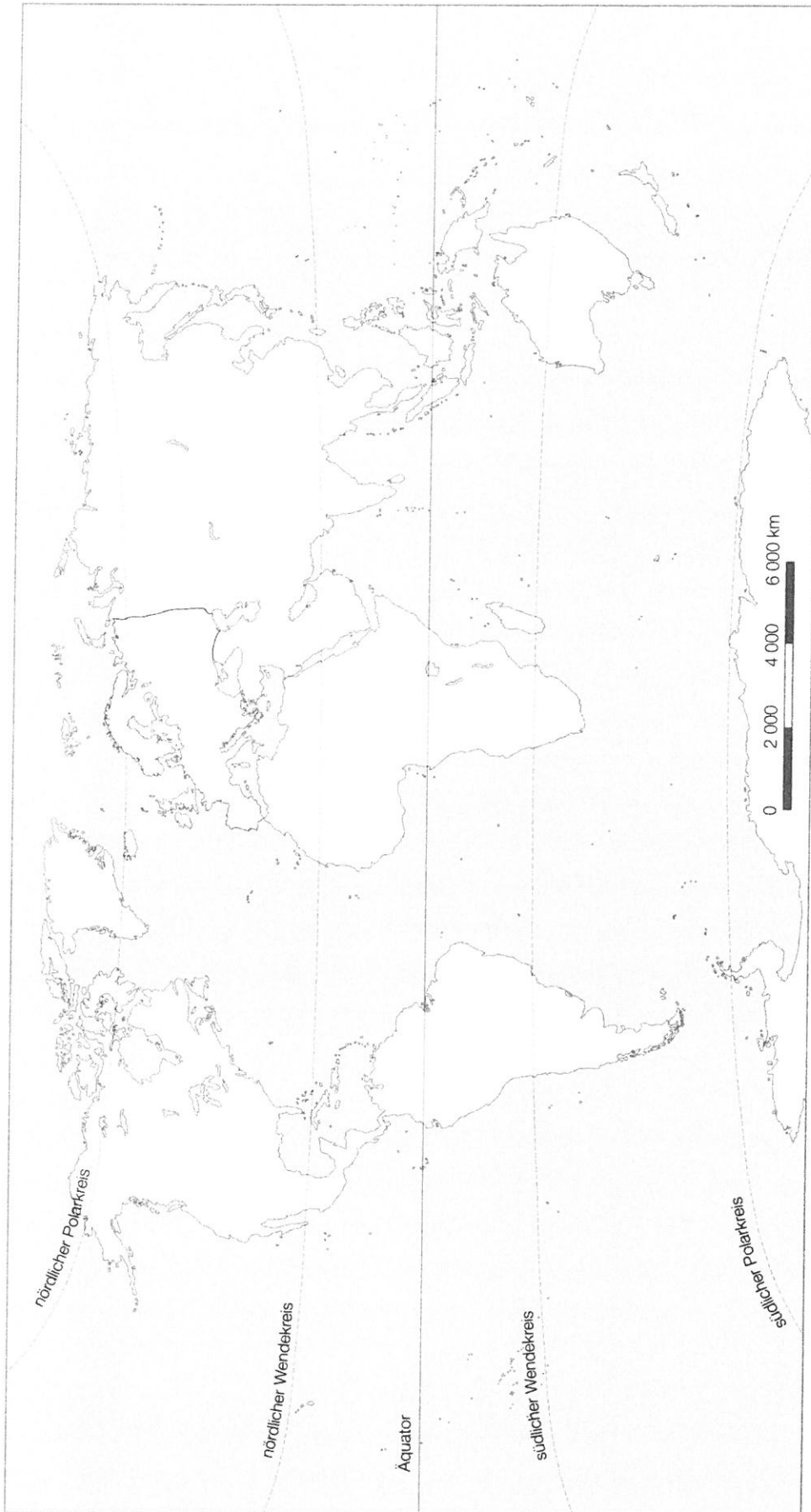
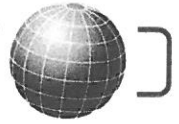
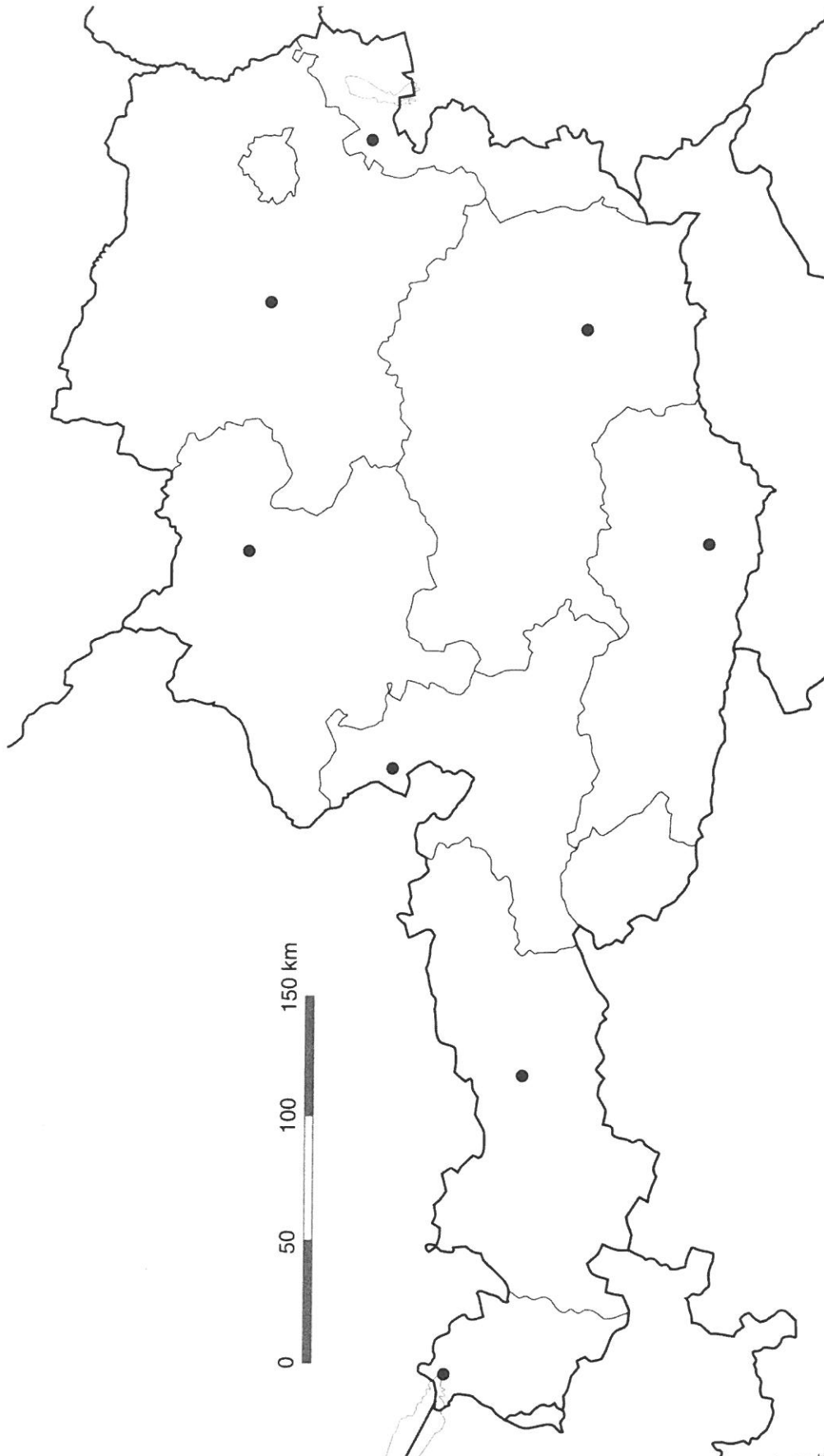
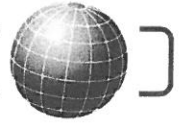


Fragenkatalog für den zweiten GW-Test

1. Wo befindet sich der tropische Regenwald?
2. In welcher Klimazone gibt es den tropischen Regenwald?
3. Wie groß ist er? (verglichen mit einem Kontinent)
4. Wie wird der Regenwald noch genannt und was produziert er?
5. Wie viele Stockwerke hat der Regenwald? Welche Tiere wohnen in den einzelnen Stockwerken?
6. Wie heißt der Fluss, der durch den Regenwald fließt?
7. Nenne vier Gründe, warum der Regenwald in Gefahr ist.
8. Erkläre, wie eine Sandwüste entsteht!
9. Was sind Dünen?
10. Wodurch zerspringen die Steine in der Felswüste?
11. Nenne drei große Wüsten.
12. Auf welchem Kontinent befindet sich die Sahara?
13. Nenne eine Wüste in Südamerika!
14. Was ist eine Oase?
15. Wie leben die Menschen in einer Oase?
16. Zähle drei Bestandteile der Dattelpalme auf und erkläre, für was sie verwendet werden.
17. Nenne zwei Gründe, warum sich die Wüste ausbreitet und was man dagegen tun kann.
18. Erkläre die Begriffe Beifang, Überfischung, nachhaltige Fischerei und MSC-Siegel (Buchseite 44).
19. Interpretiere das Klimadiagramm auf der Seite 27 in deinem Schulbuch und beantworte die Fragen 1-12.
20. Beschrifte alle Bundesländer und Hauptstädte von Österreich.
21. Wiederhole die Kontinente und Weltmeere und zeichne sie auf der Karte ein.
22. Nimm dir die Europakarte zur Hand und beschrifte alle Länder und Meere. Du kannst dafür das Internet oder den Atlas (S.120/121) zur Hilfe nehmen.





J-Berndt und Artaria KG, Wien





Stumme Karte Europa – Staatsgrenzen

